

FIȘĂ DE LUCRU

1) Scrie cu virgulă, sub formă de fracție zecimală, după model:

$$3 \text{ zecimi} = 0,3$$

$$8 \text{ sutimi} =$$

$$5 \text{ zecimi} =$$

$$2 \text{ sutimi} =$$

$$7 \text{ zecimi} =$$

$$7 \text{ sutimi} =$$

2) Scrieți sub formă de fracție, după model:

$$0,2 = \frac{2}{10}$$

$$0,04 = \frac{4}{100}$$







$$0,5 =$$

$$0,07 =$$

$$0,3 =$$

$$0,09 =$$

3) Scrieți ce reprezintă fiecare parte hașurată, din desenele care urmează, în două moduri, cu linie de fracție și cu virgulă:



4) Stabiliți valoarea de adevăr:

$$0,2 = \frac{2}{10} \quad \square$$

$$0,04 = \frac{4}{100} \quad \square$$

$$0,5 = \frac{5}{10} \quad \square$$

$$0,04 = \frac{4}{100} \quad \square$$

$$0,7 = \frac{7}{100} \quad \square$$

$$0,03 = \frac{3}{100} \quad \square$$